

Evaluer ses capacités en géographie

Localiser

1

2

1 France

Placer un point rouge sur la France



<http://www.ac-orleans-tours.fr/hist-geo-carto/7cvect/planet.gif>

http://www.ac-orleans-tours.fr/hist-geo-carto/7cvect/pla_pol.gif



<http://www.ac-orleans-tours.fr/hist-geo-carto/7cvect/fran97.gif>

2 Localisez sur la carte en bleu les métropoles régionales

Lyon
Nantes
Marseille
Bordeaux
Strasbourg
Rennes
Lille
Toulouse
Rouen

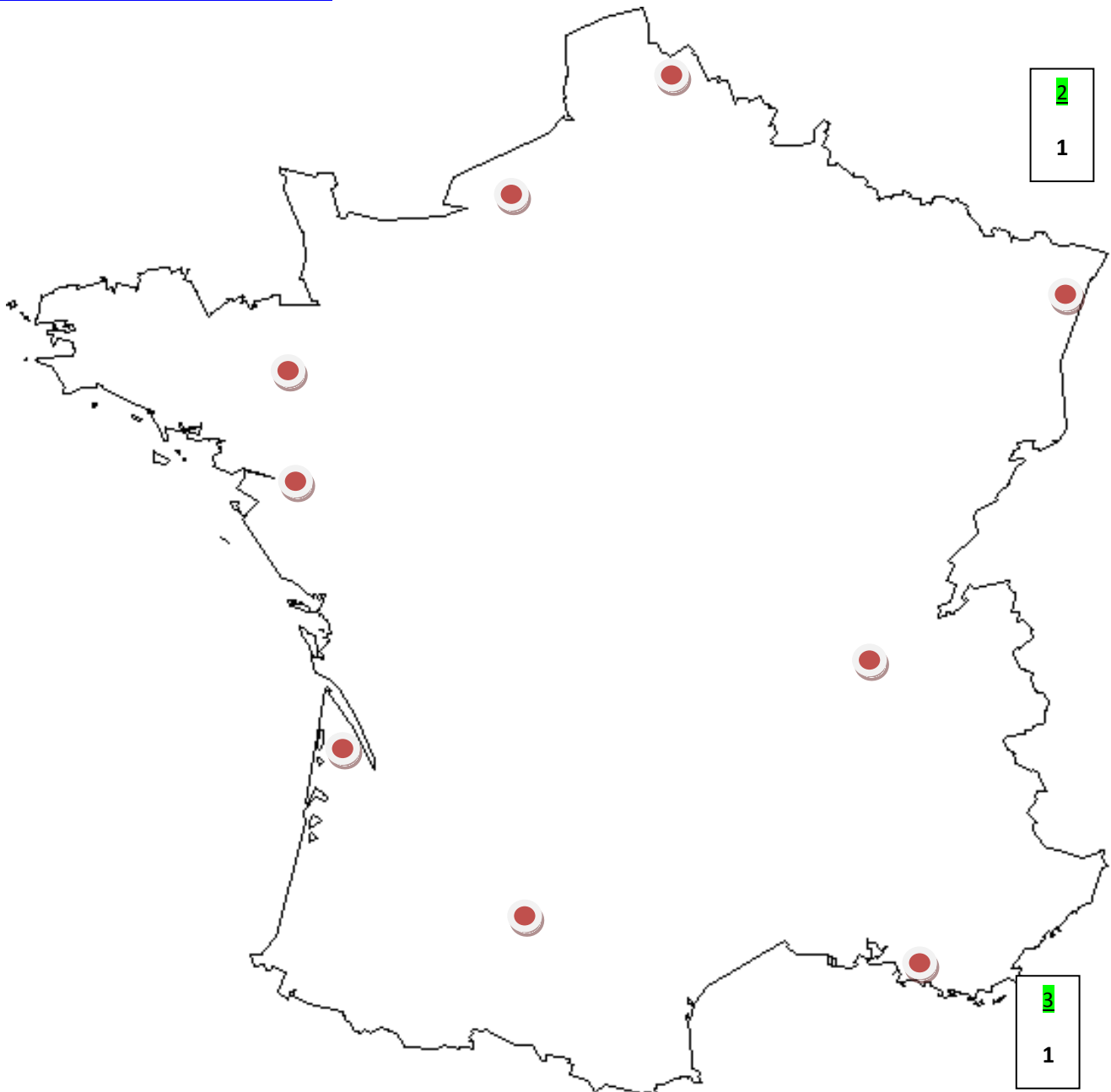
3 Ajoutez Paris

* Hachurez la Basse Normandie

* Placer en rouge :

Caen
Cherbourg
Alençon

La commune



2

1

1

1

où est votre lycée.

4 Coordonnées géographiques

**A l'aide d'un atlas, tracez les repères suivants :*

Latitude : Equateur, Tropicque du Cancer et du Capricorne, Cercles polaires arctique et antarctique

Longitude : Méridien de Greenwich, Antiméridien.

**Indiquez les valeurs en degré*

**Nommez les lignes*



4

15

5 **Coloriez les différentes zones climatiques (choisissez des couleurs « adaptées »)**

Zone chaude

Zone tempérée

Zone polaire

5

10

Justifiez le choix des couleurs :

.....

6 **France :** *En vous appuyant sur votre carte, donnez les coordonnées géographiques approximatives de la France :*

Latitude

Longitude :

6

8

A quelle zone climatique appartient la France ?

7 **Comment pouvez-vous caractériser pour la France :**

(trouver un adjectif)

- les températures :

les précipitations :

7




12

LA RÉGION BASSE-NORMANDIE
Février 2009

Partie 1

-  Réseau autoroutier, voies rapides
-  Réseau routier principal
-  Réseau ferré
-  Aéroport
-  Liaison maritime

Partie 2

-  Capitale régionale
-  Pôle urbain
-  Pôle rural

Partie 3

-  Zone humide
-  Zone boisée
-  Cours d'eau

Partie 4

0 50 150 250 417 m



Fond de carte : GEOFLA, BDCarto de l'IGN - 2000
Réalisation : Pôle Info Géo de la Région Basse-Normandie - Février 2009



8 En vous aidant d'une règle et de l'échelle graphique de la carte, calculez la distance à vol d'oiseau, entre Dives/mer et Alençon :km, entre Granville et L'Aigle:Km

8

4

9 Quelle est la capitale régionale ?

9

Quels sont les quatre principaux ports ?

10

10 Donnez un titre à chaque partie de la légende (Utilisez des termes géographiques) :

10

Partie 1 : Partie 2 :

14

Partie 3 : Partie 4 :

11

11 Localisez en utilisant les points cardinaux la partie la plus élevée de la Normandie :

8

12 La population de la Basse Normandie est passée d'une valeur 100 en 1921 à une valeur 132 en 2001 alors que dans la même période, la population française est passée de 100 à 152. Les chiffres 100, 132, 152 sont ils des indices ou des pourcentages ? Justifiez votre réponse :

12

19

13 Cette carte permet elle de nommer les trois départements bas-normands ?

13

Quels sont ils ?

13

14

14 Qui a réalisé cette carte ?

11

17 18 Réalisez une carte de synthèse simple.

Vous y ferez figurer les informations qui vous paraissent utiles pour présenter la Basse Normandie.

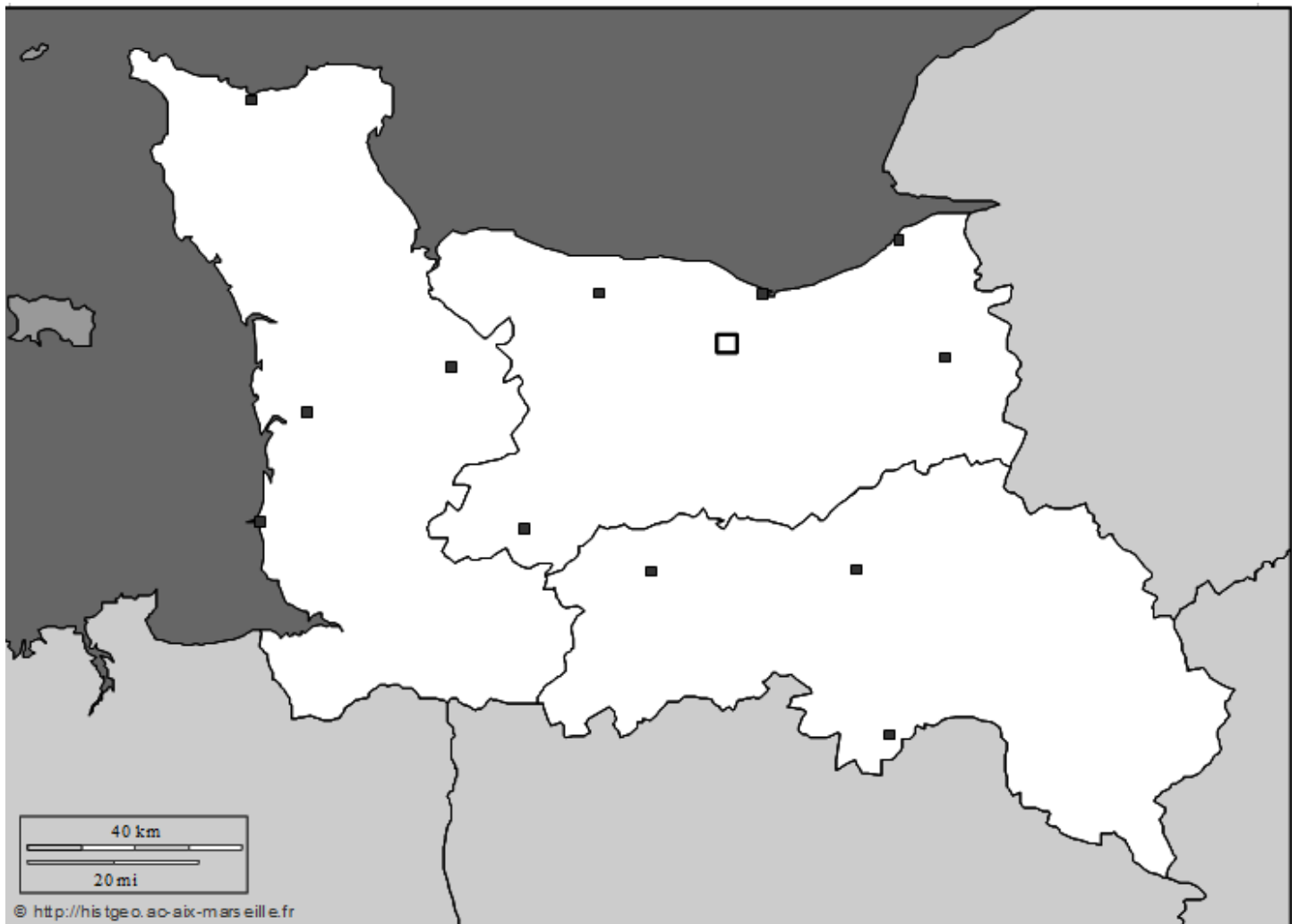
Vous construirez une légende organisée.

17

7

18

9



Légende

Soin

19

13